


LA COVA DE LA  
FONT MAJOR

**CICLE  
SUPERIOR**

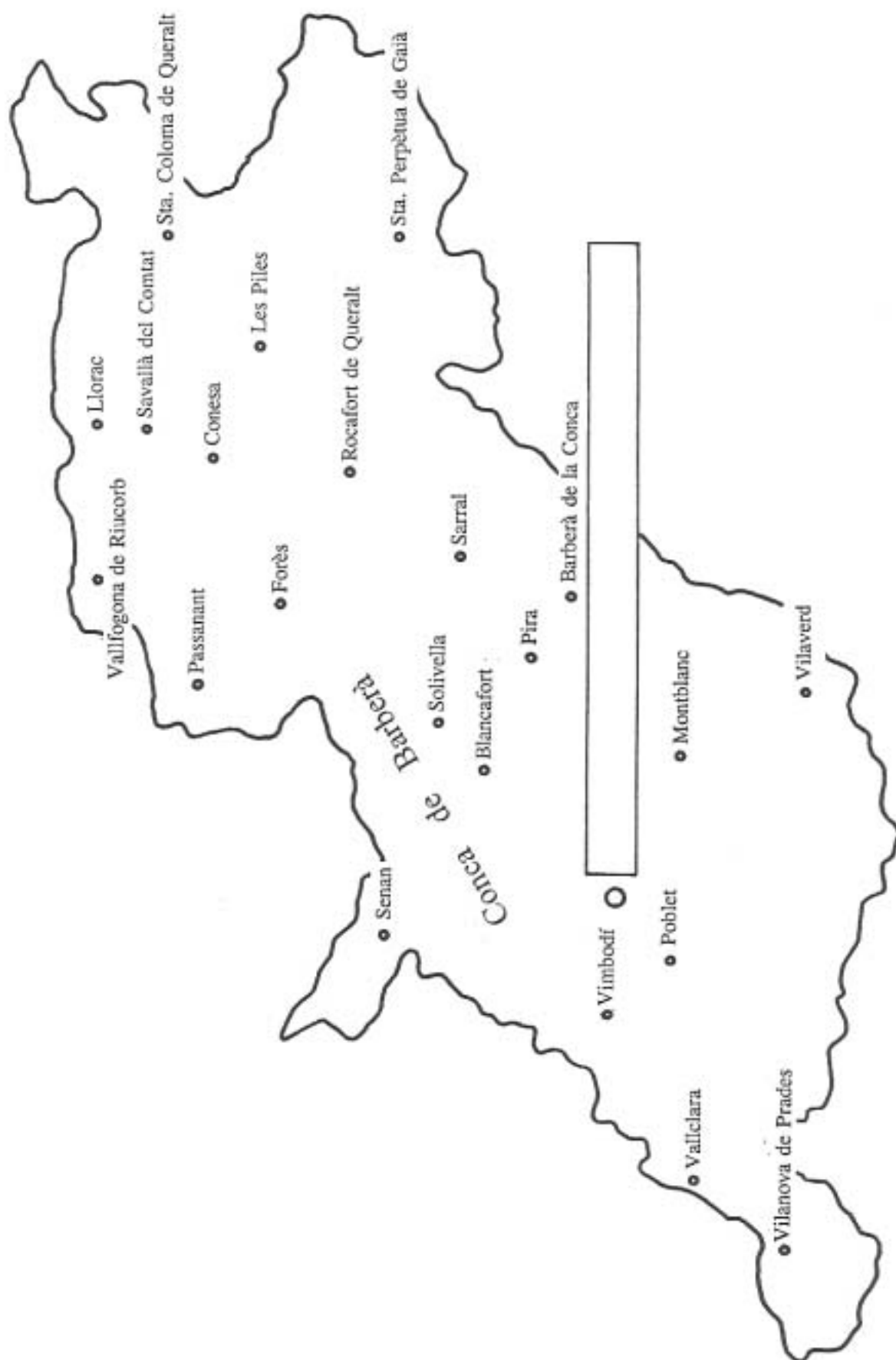
*anem a la cova*

• L'Espluga de Francolí •




• L'Espluga de Francoli •

Escriu el nom del poble on hi ha  
la Cova de la Font Major



Escriu el nom dels animals que vivien a la Conca de Barberà i que l'ésser humà caçava durant el Paleolític.



- |          |          |
|----------|----------|
| 1. _____ | 2. _____ |
| 3. _____ | 4. _____ |
| 5. _____ | 6. _____ |
| 7. _____ |          |

L'ésser humà va habitar permanentment a la Cova de la Font Major durant el Neolític i es va fer sedentari. Digues com s'anomenava el període anterior al Neolític i quin tipus de vida tenien les persones. *Encercla la resposta correcta.*

El període anterior al Neolític va ser el:

- a. Calcolític
- b. Modernista
- c. Paleolític
- d. Romà

El tipus de vida que tenia era:

- a. Confortable
- b. Nòmada
- c. Sedentari
- d. Aïllat

Assenyala si és verdader o fals el que feien les persones a l'època anterior al Neolític.

- V F - Es feia ceràmica per a guardar i cuinar aliments.
- V F - Es recol·lectaven fruits i arrels per a menjar.
- V F - No es vivia en un lloc permanent i es canviava d'emplaçament seguint els animals.
- V F - Es tenien animals domèstics dels quals n'aprofitava la carn i les pells.
- V F - Es cultivava blat i ordi per a fer farina.

## En el Neolític

Com combatien el fred?

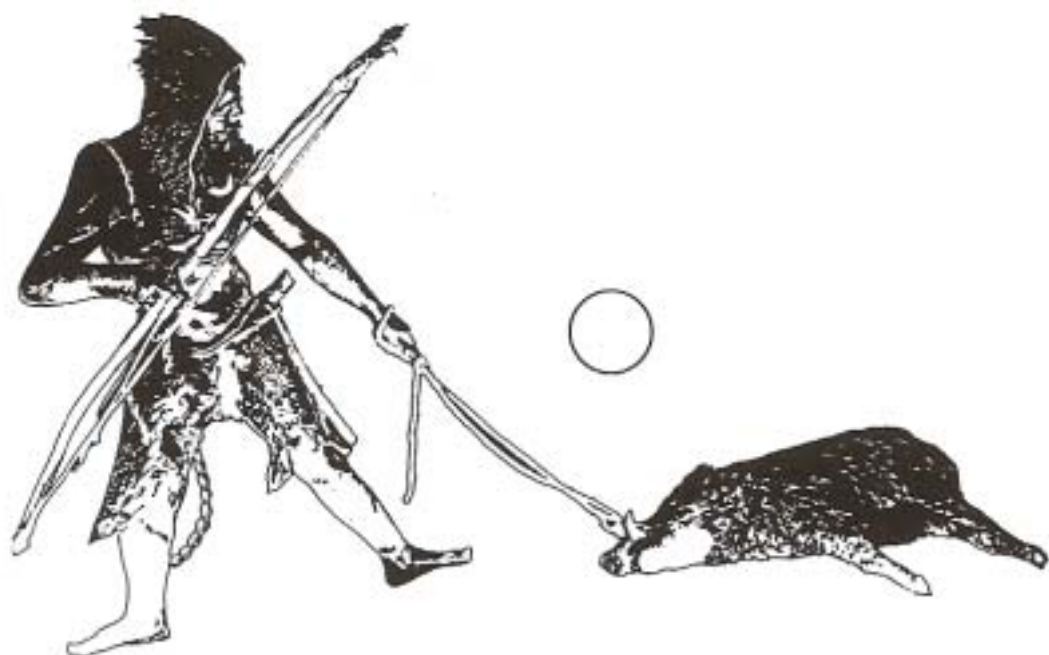
De quins materials feien els vestits?

Quins eren els seus principals aliments?

Anomena totes les coses que aprofitaven d'un animal (*el cérvol, per exemple*) quan el caçaven?

1. ....
2. ....
3. ....
4. ....
5. ....
6. ....
7. ....
8. ....
9. ....

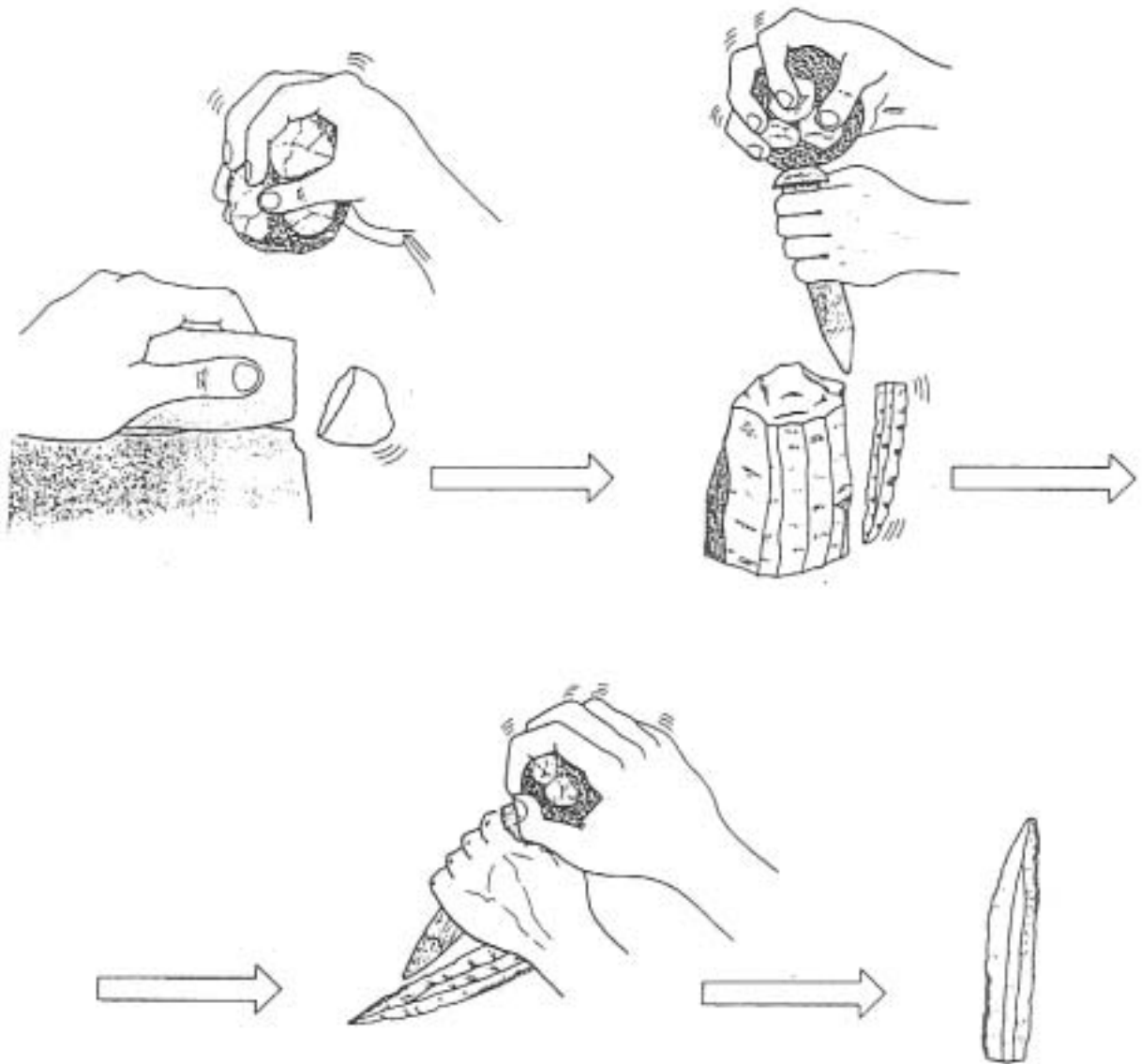
Recorda el grup de persones que vivia a la cova. Quines feines feien?



1. \_\_\_\_\_
2. \_\_\_\_\_
3. \_\_\_\_\_
4. \_\_\_\_\_


## Com treballaven el sílex?

*Fixa't en els dibuixos i explica-ho.*






Quines activitats podien fer els nens i les nenes prehistòrics que visquessin a la Cova? *Explica-les i dibuixa'n alguna.*



Dibuix




Dibuix

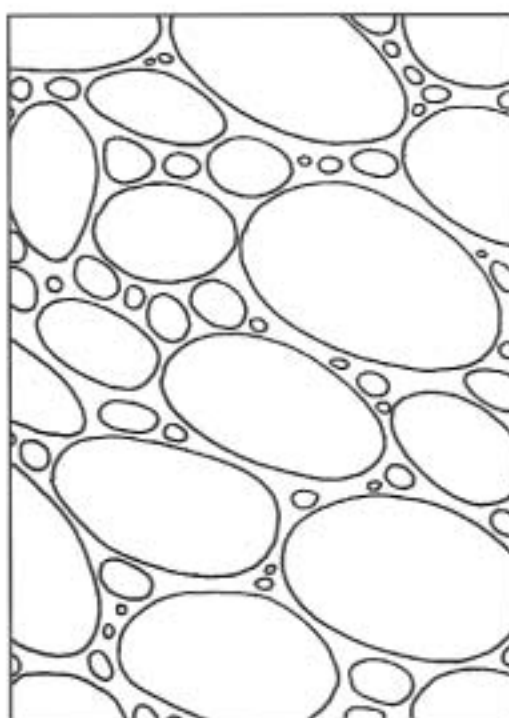
## 5. Quin tipus de roca forma la Cova de la Font Major?



Pissarra



Granit



Conglomerat

**6. Com es va formar la Cova de la Font Major?. Ordena les frases.**

Amb el pas del temps, l'aigua va erosionar\* i eixamplar les escletxes de la roca i va formar la Cova.

L'aigua aprofitava les escletxes que hi havia a la roca per penetrar-hi.

L'aigua dels barrancs\* baixava amb molta força.



\*erosió: desgast que en la superfície d'un cos produeix el fregadís d'un altre.

\*barranc: lloc de la muntanya on es recull l'aigua quan plou.

*Han col.laborat en l'elaboració d'aquest dossier:*

Ajuntament de l'Espluga de Francolí  
Càdec (Serveis d'Educació Ambiental)  
Camp d'Aprenentatge "Els Monestirs del Císter"  
Centre de Recursos Pedagògics de la Conca de Barberà  
Grup de treball de la Cova de la Font Major (Centre d'Estudis Locals)  
Museu de la Vida Rural  
ICE (Universitat Rovira i Virgili)

Documentació: Centre d'Estudis Locals de l'Espluga de Francolí  
Patronat Municipal de la Cova-Museu de la Font Major  
Dibuixos: Josep Carol Torrades

